

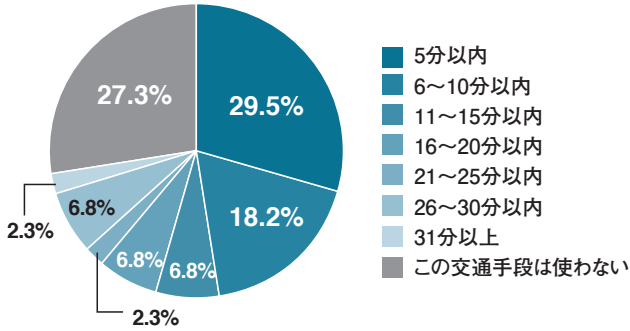
# パン好きシニアの利用交通手段からお店の商圈が見えてきた！

Q パン屋さんを利用するときの「あなたの交通手段」と「到着までの所要時間」を教えてください。(n=665)

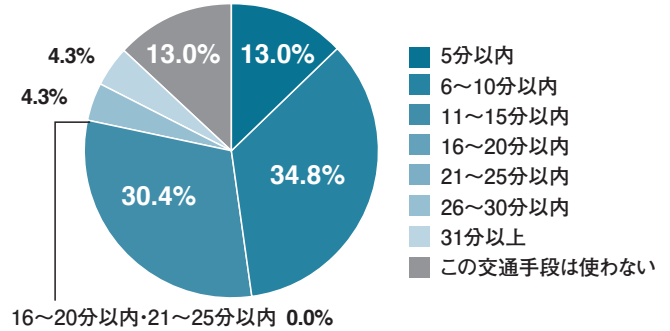
※一番利用頻度の高いパン屋さんでお答えください。

## 〈車の場合〉

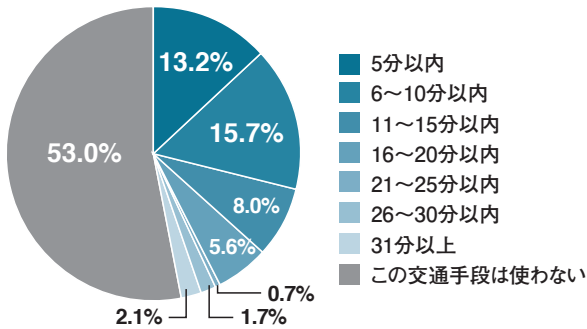
北海道 (n=44)



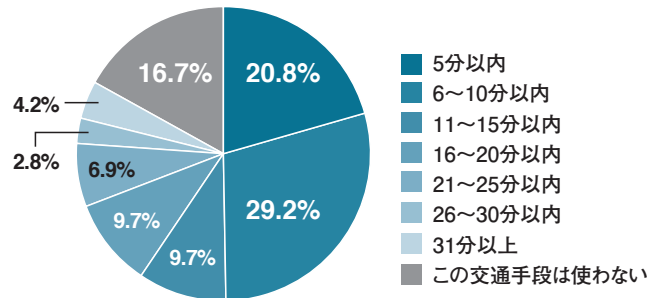
東北地方 (n=23)



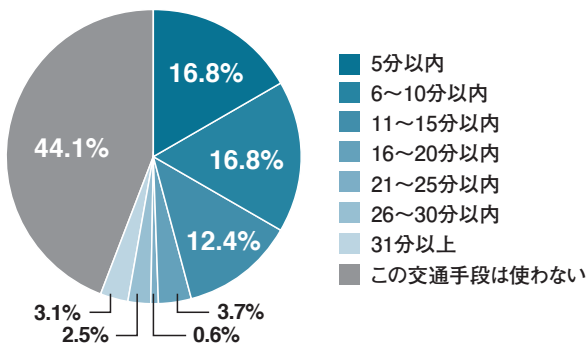
関東地方 (n=287)



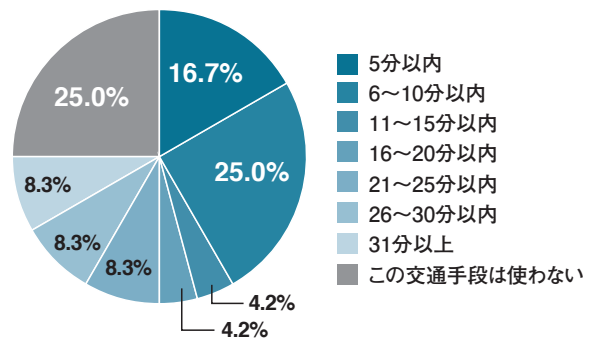
中部地方 (n=72)



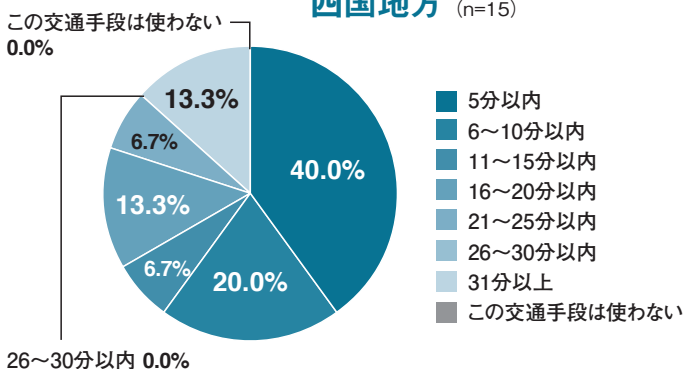
近畿地方 (n=161)



中国地方 (n=24)



四国地方 (n=15)



九州地方 (n=41)

